



都道府県の形を見て、都道府県名を答えましょう。

※大きさのひりつと方角は同じではありません。また、島は一部省りやくしてあります。



問 1



問 2



問 3



問 4



問 5



問 6

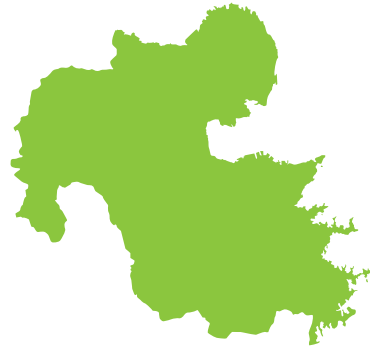


都道府県の形を見て、都道府県名を答えましょう。

※大きさのひりつと方角は同じではありません。また、島は一部省りやくしてあります。



問 1



問 2



問 3



問 4



問 5

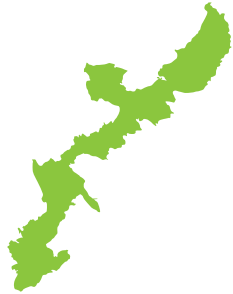


問 6

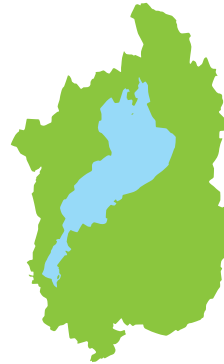


都道府県の形を見て、都道府県名を答えましょう。

※大きさのひりつと方角は同じではありません。また、島は一部省りやくしてあります。



問 1



問 2



問 3



問 4



問 5



問 6



都道府県の形を見て、都道府県名を答えましょう。

※大きさのひりつと方角は同じではありません。また、島は一部省りやくしてあります。



問 1



問 2



問 3



問 4



問 5



問 6



都道府県の形を見て、都道府県名を答えましょう。


※大きさのひりつと方角は同じではありません。また、島は一部省りやくしてあります。



問 1



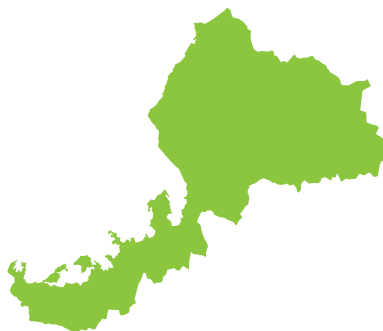
問 2



問 3



問 4



問 5



問 6

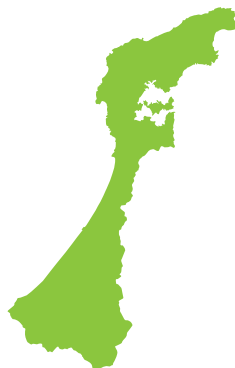


都道府県の形を見て、都道府県名を答えましょう。

※大きさのひりつと方角は同じではありません。また、島は一部省りやくしてあります。



問 1



問 2



問 3



問 4



問 5



問 6

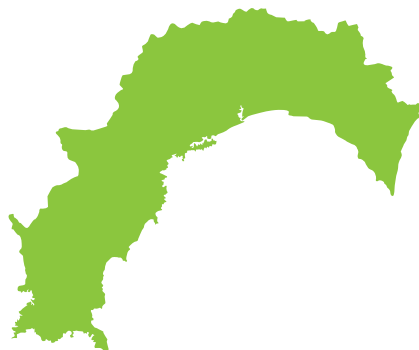


都道府県の形を見て、都道府県名を答えましょう。

※大きさのひりつと方角は同じではありません。また、島は一部省りやくしてあります。



問 1



問 2



問 3



問 4



問 5

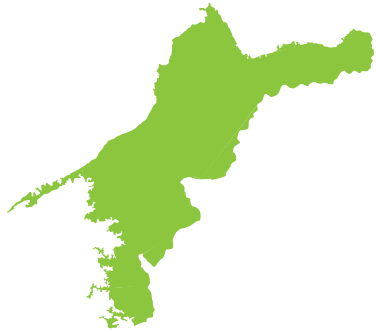


問 6



都道府県の形を見て、都道府県名を答えましょう。

※大きさのひりつと方角は同じではありません。また、島は一部省りやくしてあります。



問 1



問 2



問 3



問 4

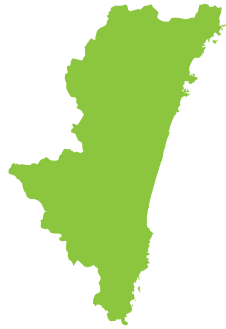


問 5



都道府県の形を見て、都道府県名を答えましょう。

※大きさのひりつと方角は同じではありません。また、島は一部省りやくしてあります。



みやざきけん
宮崎県

問 1



おおさか ぷ
大阪府

問 2



とくしまけん
徳島県

問 3



とやまけん
富山県

問 4



ほっかいどう
北海道

問 5



ぐんまけん
群馬県

問 6

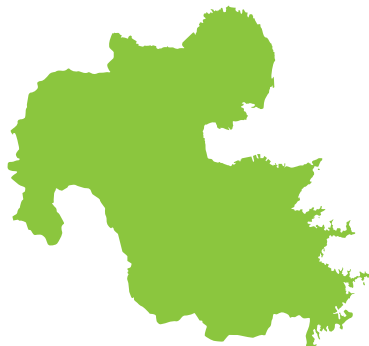


都道府県の形を見て、都道府県名を答えましょう。

※大きさのひりつと方角は同じではありません。また、島は一部省りやくしてあります。



問 1 わかやまけん
和歌山県



問 2 おおいたけん
大分県



問 3 ながのけん
長野県



問 4 かがわけん
香川県



問 5 かごしまけん
鹿児島県

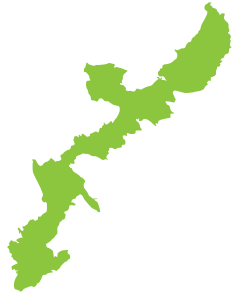


問 6 あおもりけん
青森県



都道府県の形を見て、都道府県名を答えましょう。

※大きさのひりつと方角は同じではありません。また、島は一部省りやくしてあります。



おきなわけん
沖縄県

問 1



しがけん
滋賀県

問 2



くまもとけん
熊本県

問 3



とちぎけん
栃木県

問 4



みやぎけん
宮城県

問 5



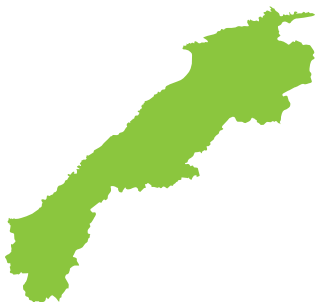
ながさきけん
長崎県

問 6

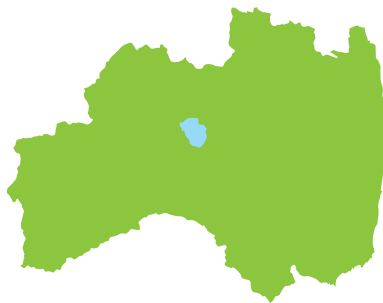


都道府県の形を見て、都道府県名を答えましょう。

※大きさのひりつと方角は同じではありません。また、島は一部省りやくしてあります。



問 1 しまねけん
島根県



問 2 ふくしまけん
福島県



問 3 にいがたけん
新潟県



問 4 ひろしまけん
広島県



問 5 ちばけん
千葉県



問 6 きょうと ぷ
京都府



都道府県の形を見て、都道府県名を答えましょう。

※大きさのひりつと方角は同じではありません。また、島は一部省りやくしてあります。



あきた けん
秋田県

問 1



か な が わ けん
神奈川県

問 2



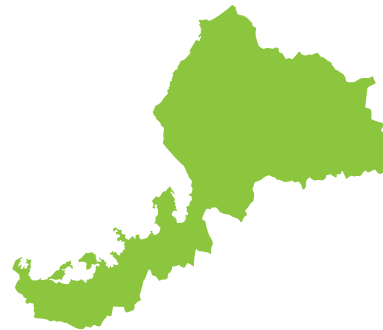
ふくおか けん
福岡県

問 3



しずおか けん
静岡県

問 4



ふくい けん
福井県

問 5



やまがた けん
山形県

問 6

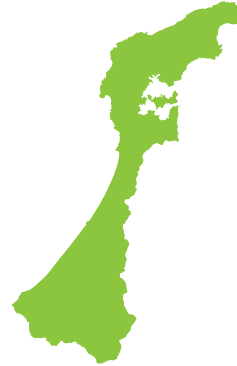


都道府県の形を見て、都道府県名を答えましょう。

※大きさのひりつと方角は同じではありません。また、島は一部省りやくしてあります。



問 1 おかやまけん
岡山県



問 2 いしかわけん
石川県



問 3 さがけん
佐賀県



問 4 ぎふけん
岐阜県



問 5 ひょうごけん
兵庫県



問 6 いわてけん
岩手県

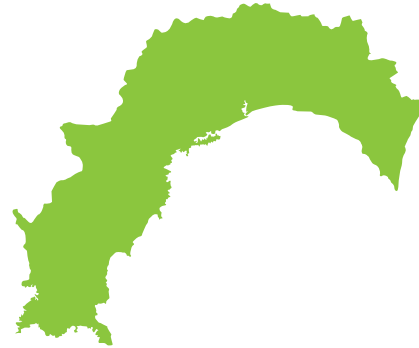


都道府県の形を見て、都道府県名を答えましょう。

※大きさのひりつと方角は同じではありません。また、島は一部省りやくしてあります。



問 1

さいたまけん
埼玉県

問 2

こうちけん
高知県

問 3

あいちけん
愛知県

問 4

いばらきけん
茨城県

問 5

とうきょうと
東京都

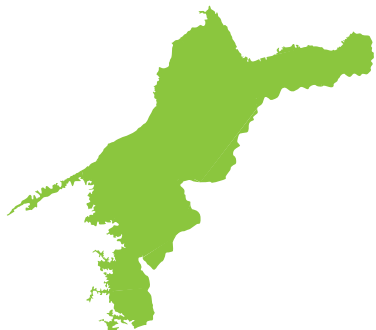
問 6

とっとりけん
鳥取県



都道府県の形を見て、都道府県名を答えましょう。

※大きさのひりつと方角は同じではありません。また、島は一部省りやくしてあります。



問 1

えひめけん
愛媛県

問 2

ならけん
奈良県

問 3

やまぐちけん
山口県

問 4

みえけん
三重県

問 5

やまなしけん
山梨県